



# Rallye Maths

## Manche 2 - Épreuve 4 L'orchestre

**Matériel :**

Fiches plastifiées des activités.

**Organisation :**

Une partie entraînement permet à chaque élève d'entrer dans l'activité.  
Niveaux 1 et 2 : par binômes ou par groupes

**Déroulement :** Raconter l'histoire suivante :

« Mathéo et Mathilde sont allés au concert. De retour à la maison, ils décident de jouer aux musiciens : Mathilde est la chanteuse, Mathéo joue du violon, leurs deux amis jouent du tambour et du saxophone ».

*Entraînement :*

« Retrouve le musicien manquant et complète l'orchestre ».

*Niveaux 1 et 2 :*


« Dans chaque carré de couleur, il ne peut y avoir que Mathilde, Mathéo, un tambour et un saxophone. On ne peut pas trouver deux musiciens identiques dans le même carré.

Trouve l'image qui se trouve derrière le ♥ , le ★ , le ▲ et le ? »

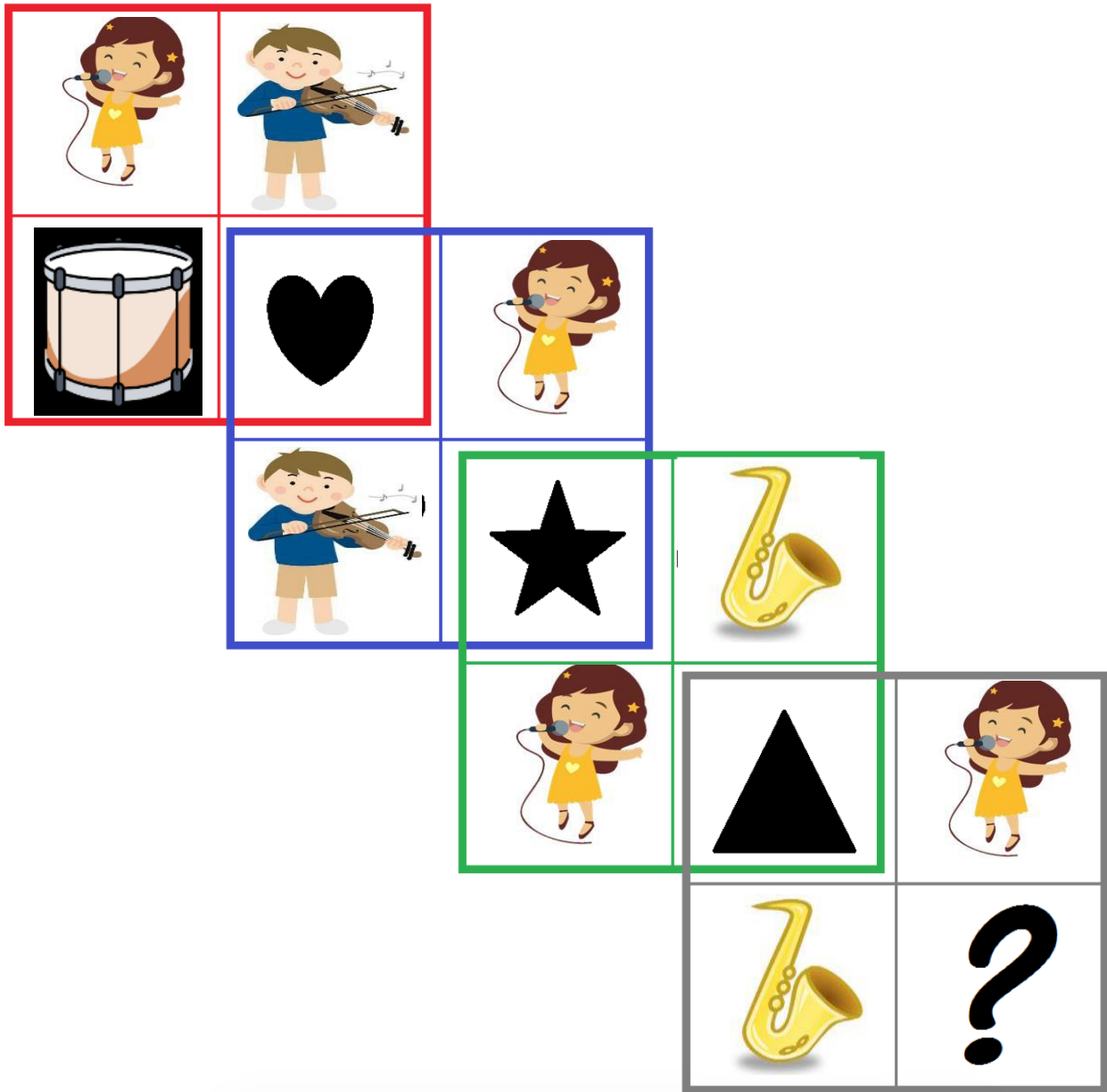
**Validation :**

En collectif, par groupe, par verbalisation, échanges et justifications.

ENTRAINEMENT : Trouve l'image qui manque dans chaque carré.















NIVEAU 1 : Trouve l'image qui se trouve derrière le ♥ , le ★ , le ▲ et le ?



♥	★	▲	?

NIVEAU 2 : Trouve l'image qui se trouve derrière le ♥ , le ★ , le ▲ et le ?

			
	<table border="1"> <tr> <td></td> <td></td> </tr> </table>		
			
	<table border="1"> <tr> <td></td> <td></td> </tr> </table>	