

Rallye Maths

Correction Manche 2 – Rallye

Exercice 1 – Partitions – (10 points)

CP :

9 notes sont visibles → $13 - 9 = 4$ → 4 notes sont cachées, soit **2 notes sous chaque tâche**.






CE1

Ce morceau contient 16 temps.

Pour résoudre cet exercice, il était possible d'associer sa valeur à chaque note puis dénombrer les temps. Les élèves pouvaient encore dénombrer chaque type de note (8 noires, 8 croches et 2 blanches) puis calculer le nombre de temps correspondant.

Exercice 2 – Viens voir les musiciens – (10 points)

Pour les CP

				
Le chef d'orchestre	La harpiste	La mandoliniste	Le trompettiste	Le bassiste

Pour les CE1

						
Le chef d'orchestre	La harpiste	La mandoliniste	Le trompettiste	L'accordéoniste	Le bassiste	La clarinettiste

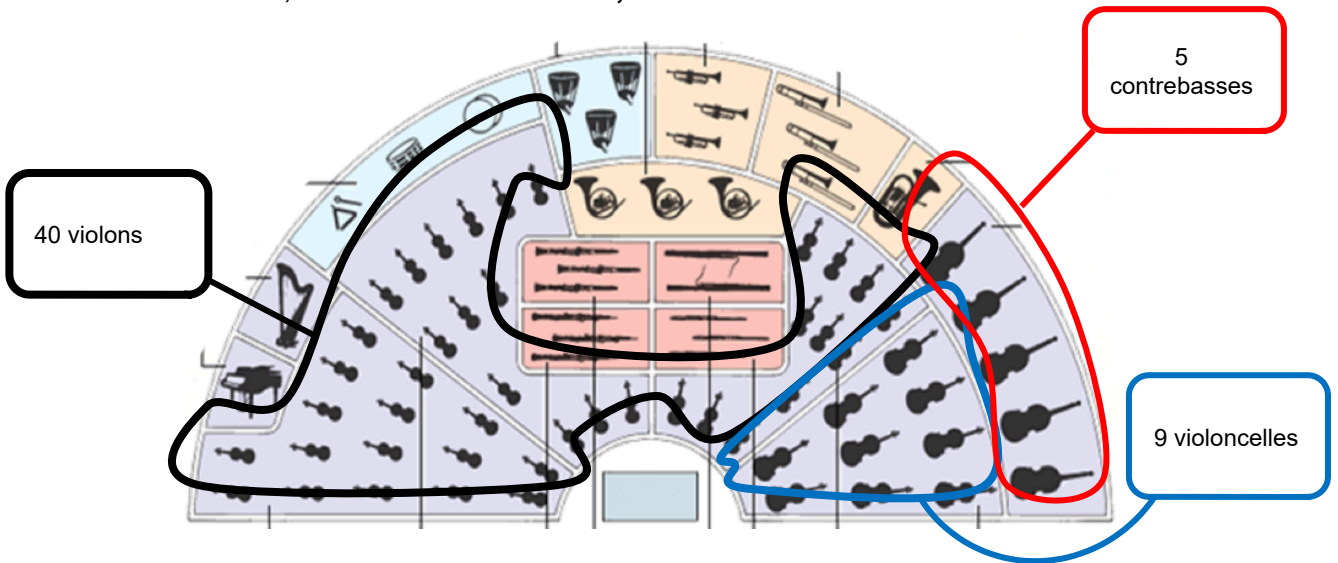
Exercice 3 – La leçon de piano – (10 points)

Lucas a 31 € dans son porte-monnaie, il peut donc acheter :

Partitions		Montant	Argent restant
1 (12€)	4 (15€)	27€	4€
1 (12€)	6 (16€)	28€	3€
4 (15€)	6 (16€)	31€	0 €

Exercice 4 – L'orchestre – (10 points)

Par dénombrement, on trouvait **40 violons**, **9 violoncelles** et **5 contrebasses**.



Il y avait **83 instruments en tout** dans l'orchestre.

Exercice 5 – Sudoku – (10 points)

